

به نام یزدان پاک
آزمون ریاضی پایه چهارم ابتدایی

نام و نام خانوادگی:

دبستان:

با توجه به عدد ۵۹۲۶۷۱۰۴۴ به سوالات پاسخ دهید.

* عدد را به حروف بنویسید؟

* ارزش مکانی رقم ۱ را بنویسید؟

* عدد طبقه هزار ها چند است؟

* با رقم های عدد داده شده بزرگ ترین عددی که می توان نوشت را بنویسید.

* با رقم های عدد داده شده کوچک ترین عددی که می توان نوشت را بنویسید.



شکل (۱)

شکل (۲)

شکل (۳)

با توجه به الگو به سوالات پاسخ دهید.

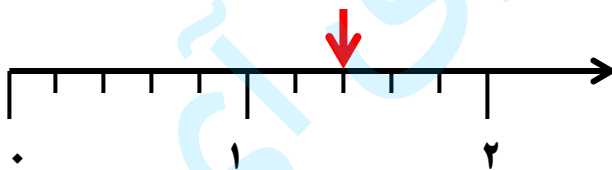
* تعداد چوب کبریت های هر شکل تا از شکل قبلی است

* در الگوی داده شده راه حل را پیدا کنید و بنویسید؟

* شکل چهارم از چند چوب کبریت درست می شود؟ شکل هفتم چطور؟

با توجه به کسر $\frac{۳}{۵}$ موارد خواسته شده را انجام دهید.

* برای کسر داده شده شکل مناسب بکشید.



* کسر را روی محور مقابل نشان دهید

* محل مشخص شده (↓) روی محور قسمت قبل چه کسر یا عدد مخلوطی را نشان می دهد؟

$$۵ \times \frac{۶}{۴۰} =$$

$$\frac{۲}{۴} + \frac{۱}{۴} =$$

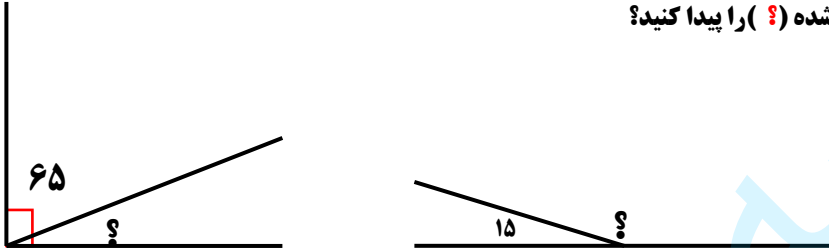


$$۲ \times \frac{۳}{۸} =$$

$$\frac{۸}{۱۴} - \frac{۳}{۷} =$$

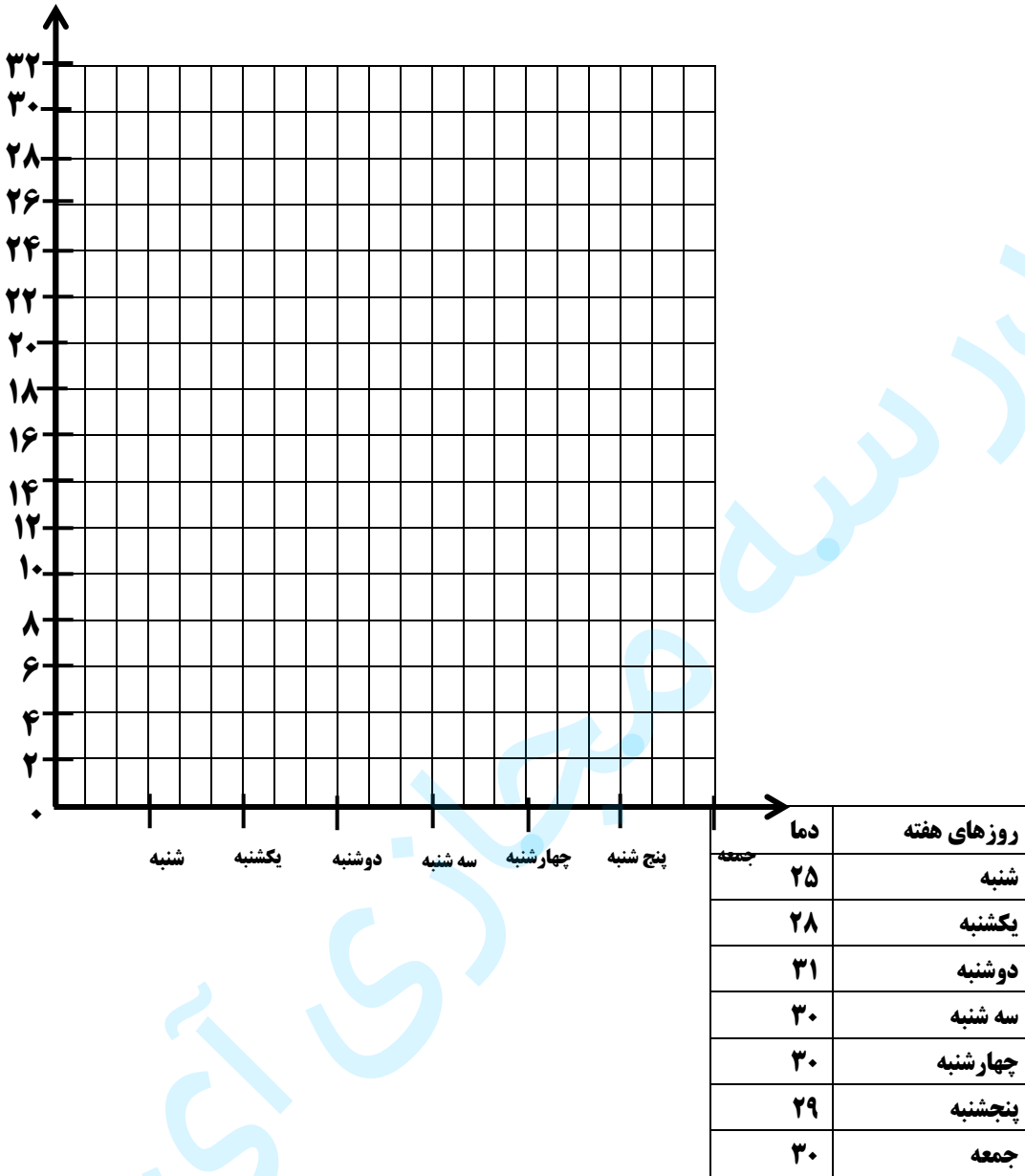
$$\frac{۵}{۹} - \frac{۲}{۹} =$$

$$\frac{۴}{۸} + \frac{۵}{۲۴} =$$

حاصل را بدست آورید.

<p>ضرب و تقسیم داده شده را انجام دهید؟</p> $\begin{array}{r} ۱۲۵ \\ \times ۴۰۲ \\ \hline \end{array}$ $۳۵۱۸ \overline{) ۲۱}$	۵
<p>اندازه ی زاویه های خواسته شده (؟) را پیدا کنید؟</p> 	۶
<p>حاصل را به دست آورید.</p> $\begin{array}{r} ۳/۷ \\ + ۴/۵ \\ \hline \end{array}$ $\begin{array}{r} ۱۴/۴ \\ + ۱۰/۳ \\ \hline \end{array}$ $\begin{array}{r} ۱۷/۱ \\ - ۱۱/۸ \\ \hline \end{array}$ $\begin{array}{r} ۵/۶ \\ + ۲/۱ \\ \hline \end{array}$	۷
<p>مساحت شکل های زیر را به دست آورید؟</p> 	۸
<p>درون کیسه ای پنج مهره وجود دارد که یکی از آن ها سبز و چهار مهره ی دیگر قرمز هستند با توجه به مهره های کیسه جاهای خالی را کامل کنید.</p> <p>* اگر به طور اتفاقی مهره ای از داخل کیسه بیرون بیاوریم به احتمال بیشتر است.</p> <p>* اگر به طور اتفاقی مهره ای از داخل کیسه بیرون بیاوریم به احتمال کم تر است.</p> 	۹

در جدول زیر میزان دمای روزهای یک هفته آمده است نمودار خط شکسته ی آن را رسم کنید.



*مساحت زمینی به طول ۲۰۰ متر و عرض ۸۹ متر چقدر می شود؟

*متوازی الاضلاعی داریم که ارتفاع آن ۵ و قاعده ی آن ۷ است مساحت این متوازی الاضلاع چند می شود؟

*اتوبوسی ساعت ۱۰:۲۵ دقیقه از بندرعباس به سمت شیراز حرکت کرد و در ساعت ۱۹:۱۵ دقیقه به شیراز رسید این اتوبوس مسیر را در چند ساعت طی کرده است؟

*چهار ضلعی که فقط دو ضلع موازی دارد چه نام دارد؟

*چهار ضلعی که چهار زاویه ی برابر و چهار ضلع مساوی دارد چه نام دارد؟

*پاره خطی که از یک راس زاویه بر ضلع روبه روی خود عمود باشد چه نام دارد؟

موفق باشید

مدار سبزه مجازی آی نو