

بسمه تعالی

وزارت آموزش و پرورش

امتحانات نوبت : اول

نام و نام خانوادگی:  
نام پدر:

نام معلم:  
امتحان :

تعداد سوال: تعداد صفحه .....

کلاس :

مدت امتحان: تاریخ امتحان:

۱- زمان های خواسته شده با کشیدن عقربه ها برای روی هر ساعت نشان دهید .



۱۶:۳



۵:۲

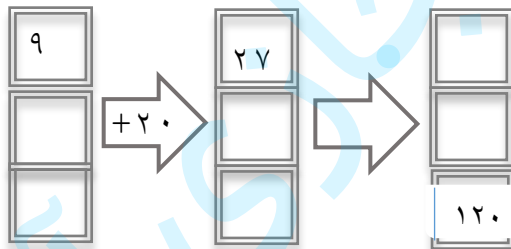


۲۱:۴۵



۱۸:۰۰

- جاهای خالی را با اعداد مناسب کامل کنید .



۳- عدد زیر را در جدول ارزش مکانی رو به رو وارد کنید و به سوالات زیر پاسخ دهید .

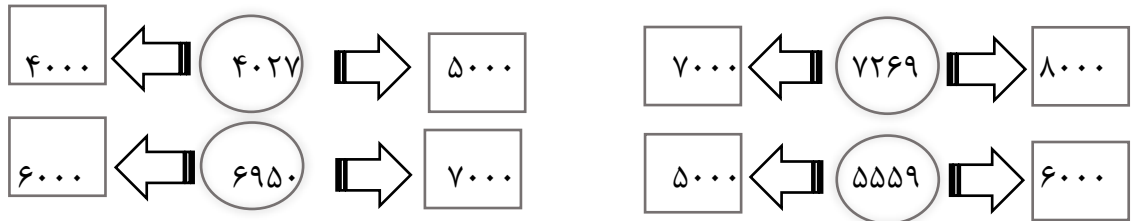
عدد ۳ یکی ، ۴ ده تایی ، صفر صدتایی و ۵ هزارتایی

- این عدد را به حروف بنویسید .

- عدد ۴ در کدام مرتبه قرار دارد ؟

| یکان | دهگان | صدگان | هزارگان |
|------|-------|-------|---------|
|      |       |       |         |

۴ - عدد داخل دایره به کدام عدد در مربع ها نزدیک تر است ؟



۵- جاهای خالی را کامل کنید .

الف- ۳۲۵ سانتی متر ..... متر و..... سانتی متر است.

ب - ۳ کیلومتر و ۲۰۰ متر ..... متر است.

پ - ۵۶۰۰ گرم ..... کیلوگرم و ..... گرم است .

ت- ..... سانتی متر ۲ متر و ۲۷ سانتی متر است .

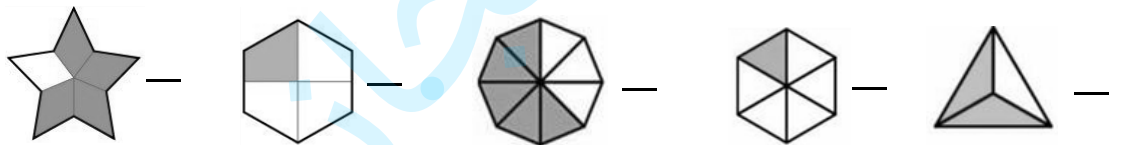
ج- عدد ..... یعنی ۴ هزارتایی و ۲ یکی .

د - ۲۰۰۰ ریال همان ..... تومان است .

۶ - عبارت زیر چه کسری را نشان می دهد؟

- اندازه ی یک دانه لویبای ۸ میلی متری ..... سانتی متر است .

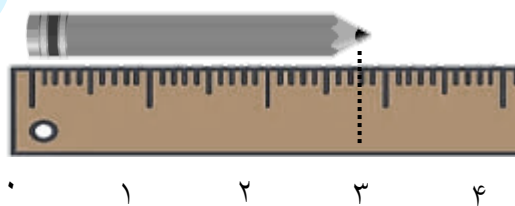
۷ - کسر مربوط به هر شکل را بنویسید .



۸- کسری را که هر دایره نشان می دهد بنویسید و به همان اندازه از مستطیل ها رنگ کنید .



۹ - طول این مداد را با خط کش اندازه گرفته ایم .



- طول مداد از ..... سانتی متر بیشتر و از ..... سانتی متر کمتر است .

- طول مداد ..... سانتی متر و ..... میلی متر است .

۱۰- مقایسه کنید .

۲۴۰۱  ۲۳۵۶

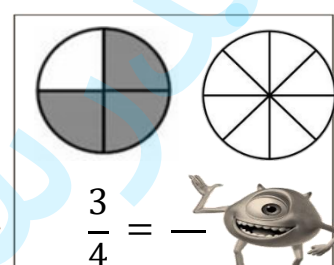
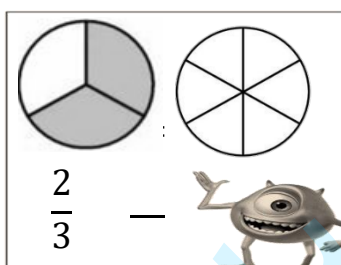
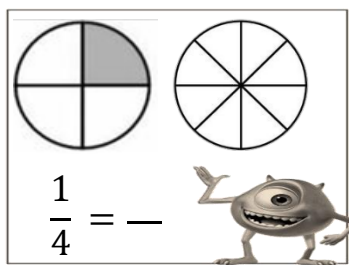
۳۵۰ سانتی متر  ۲ متر و ۵۰ سانتی متر

$\frac{3}{8}$    $\frac{6}{8}$

۱۰۰۲  ۹۹۹

۳۶۵۰ گرم  ۲ کیلوگرم و ۵۰ گرم

۱۱- دانش آموز تلاشگرم ، با توجه به شکل های زیر تساوی ها را کامل کنید .



۱۲- زمان ۱۸:۳۰ دقیقه را بر روی ساعت نشان دهید .

چه کسری از یک ساعت به ساعت ۱۹ مانده است ؟

نیاز به تلاش بیشتر

قابل قبول

خوب

خیلی خوب

باز خورد معلم :