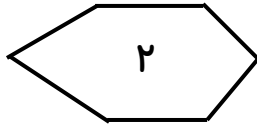
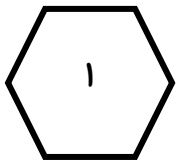


نام و نام خانوادگی:  
درس : آزمون جامع ریاضی

تاریخ :  
نام کلاس : دوم

۱) کامل کنید .

\* با کارت های ۷ و ۹ و ۳ هر چند تا عدد دورقمی که می توانید ، بنویسید .



۲) دو شکل مقابل چه تفاوت و چه شباهتی با هم دارند ؟

شباهت :

تفاوت :

۳) ابتدا جمع و تفریق های زیر را با روش های خواسته شده حل کنید سپس پاسخ آن ها را مقایسه کنید و

در دایره علامت ( $< = >$ ) قرار دهید .

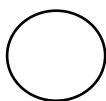
تکنیکی

۴۶۹

+ ۲۵۷

۵۳۸

- ۳۷۵



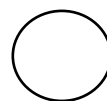
فرایندی

۲۳۵




+ ۳۶۹

۷۳۸

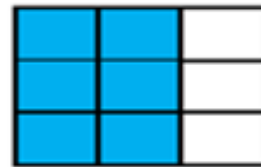
- ۵۴۶



۴) اعداد زوج و فرد را در گل مناسب خودش بنویسید.



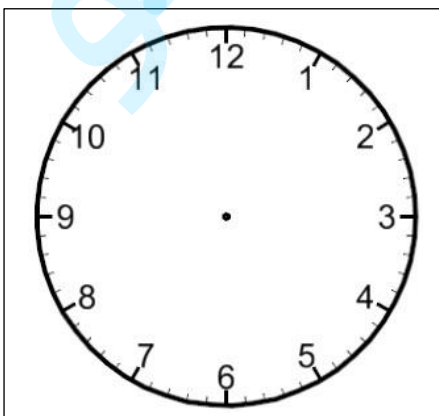
۵) چه بخشی از شکل های زیر رنگ شده است؟



..... قسمت از ..... قسمت مساوی

..... قسمت از ..... قسمت مساوی

۶) اگر به ساعت ۲:۰۰ یک بار ۱۰ دقیقه و یک بار دیگر یک ربع اضافه کنیم، ساعت چند خواهد بود؟



۷) کامل کنید

۸۰ میلی متر = ..... سانتی متر است .

۲۳۴ میلی متر = ..... سانتی متر و ..... میلی متر است .

۸) جاهای خالی را کامل کنید .





..... دسته ی ..... تایی می شود .....

۹) مریم برای خرید ۲ عدد کره و یک ماست ، ۷۸۰ ریال به مغازه دار داد . اگر قیمت هر کره ۳۰۰ ریال باشد . قیمت ماست چند ریال است ؟

۱۰) در مغازه ی میوه فروشی ، میوه های زیر وجود دارد .

نام میوه	سیب	زرد آلو	شلیل	موز
تعداد	۳۸	۴۷	۲۲	۱۲
تعداد تقریبی				

جدول را کامل کنید و بعد نمودار تصویری آن را بکشید . برای هر ۱۰ میوه یک  بکشید .



پیروز و سربلند باشید .