














به نام خداوند بخشنده و مهربان

نام و نام خانوادگی

۱	<p>در جاهای خالی عدد یا عبارت مناسب بنویسید.</p> <p>۷۳ یعنی ده تایی و یکی</p> <p>۲ و ۸ می شود ۸۲</p> <p>..... یعنی ۴ ده تایی و ۰ یکی</p> <p>۶ ده تایی و ۱ یکی می شود</p>				
۲	<p>با رقم های ۳ و ۶ و ۹ چند عدد سه رقمی می توان نوشت؟ آن ها را بساز و بنویس.</p>				
۳	<p>جمع و تفریق داده شده را به کمک محور حل کنید.</p> <p>$۸+۹-۵ = \dots\dots\dots$</p> 				
۴	<p>الگوهای شمارش را کامل کنید.</p> <p>۴ - ۸ - - - - -</p> <p>۲۱ - ۲۸ - - - -</p>				
۵	<p>جواب جمع و تفریق های زیر را به صورت تقریبی به دست آورید.</p> <table style="width: 100%; border: none;"> <tr> <td style="text-align: center; width: 50%;"> $\begin{array}{r} ۸۲ \\ - ۳۷ \\ \hline \end{array}$ </td> <td style="text-align: center; width: 50%;"> $\begin{array}{r} ۲۵ \\ + ۴۶ \\ \hline \end{array}$ </td> </tr> <tr> <td style="text-align: center;"> $\longrightarrow \dots\dots\dots$ $\longrightarrow - \dots\dots\dots$ $\dots\dots\dots$ </td> <td style="text-align: center;"> $\longrightarrow \dots\dots\dots$ $\longrightarrow + \dots\dots\dots$ $\dots\dots\dots$ </td> </tr> </table>	$\begin{array}{r} ۸۲ \\ - ۳۷ \\ \hline \end{array}$	$\begin{array}{r} ۲۵ \\ + ۴۶ \\ \hline \end{array}$	$\longrightarrow \dots\dots\dots$ $\longrightarrow - \dots\dots\dots$ $\dots\dots\dots$	$\longrightarrow \dots\dots\dots$ $\longrightarrow + \dots\dots\dots$ $\dots\dots\dots$
$\begin{array}{r} ۸۲ \\ - ۳۷ \\ \hline \end{array}$	$\begin{array}{r} ۲۵ \\ + ۴۶ \\ \hline \end{array}$				
$\longrightarrow \dots\dots\dots$ $\longrightarrow - \dots\dots\dots$ $\dots\dots\dots$	$\longrightarrow \dots\dots\dots$ $\longrightarrow + \dots\dots\dots$ $\dots\dots\dots$				
۶	<p>ابتدای تقارن شکل های زیر را رسم کنید سپس تعداد ضلع و گوشه ی هر شکل را بنویسید.</p> <table style="width: 100%; border: none;"> <tr> <td style="text-align: center; width: 25%;">  <p>ضلع: گوشه:</p> </td> <td style="text-align: center; width: 25%;">  <p>ضلع: گوشه:</p> </td> <td style="text-align: center; width: 25%;">  <p>ضلع: گوشه:</p> </td> <td style="text-align: center; width: 25%;">  <p>ضلع: گوشه:</p> </td> </tr> </table>	 <p>ضلع: گوشه:</p>	 <p>ضلع: گوشه:</p>	 <p>ضلع: گوشه:</p>	 <p>ضلع: گوشه:</p>
 <p>ضلع: گوشه:</p>	 <p>ضلع: گوشه:</p>	 <p>ضلع: گوشه:</p>	 <p>ضلع: گوشه:</p>		
۷	<p>اعداد زیر را به صورت باز شده (گسترده) بنویسید.</p> <p>$۸۲۹ = \dots\dots\dots$</p> <p>$۳۷۴ = \dots\dots\dots$</p>				

ارزش سکه های زیر را به دست بیاورید.

۸



جمع و تفریق های زیر را به روش فرایندی (گسترده نویسی) حل کنید.

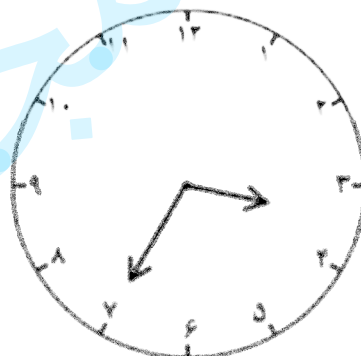
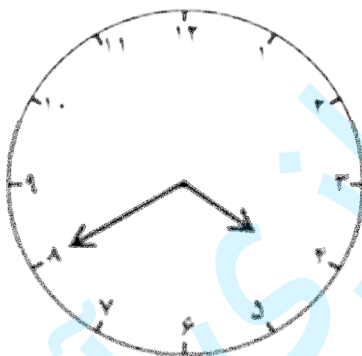
۹

$$\begin{array}{r} 54 \\ +26 \\ \hline \end{array}$$

$$\begin{array}{r} 82 \\ -39 \\ \hline \end{array}$$

ساعت چند است ؟

۱۰



باز خورد معلم:

نیاز به تلاش بیشتر

قابل قبول

خوب

خیلی خوب

بچه های عزیز به یاری خدا موفق و پیروز باشید