

به نام خدا

پایه دوم

نام :

نام خانوادگی :

۱- پاسخ صحیح را با علامت (X) داخل مشخص کنید.

- | | |
|-------------------------------|---------------------------------|
| <input type="checkbox"/> درست | <input type="checkbox"/> نادرست |
| <input type="checkbox"/> درست | <input type="checkbox"/> نادرست |
| <input type="checkbox"/> درست | <input type="checkbox"/> نادرست |
| <input type="checkbox"/> درست | <input type="checkbox"/> نادرست |
| <input type="checkbox"/> درست | <input type="checkbox"/> نادرست |
| <input type="checkbox"/> درست | <input type="checkbox"/> نادرست |
| <input type="checkbox"/> درست | <input type="checkbox"/> نادرست |
| <input type="checkbox"/> درست | <input type="checkbox"/> نادرست |

❖ یک هشت ضلعی ۸ ضلع و گوشه دارد.

❖ با رقم های ۳ و ۶ می توان دو عدد ساخت.

❖ یک ربع همان ۱۵ دقیقه است.

❖ عدد ۴۸ به ۴۰ نزدیک تر است.

❖ عدد ۱۴۵ زوج است.

❖ ده سکه ی ۱۰ ریالی برابر است با یک سکه ی صد ریالی.

❖ در مستطیل همه ی ضلع ها با هم برابر است.

❖ دو دسته ی ۳ تایی برابر است با ۹ تا

❖ مثلث تقارن ۴ قسمتی دارد.

۲- در جای خالی عدد یا عبارت مناسب بنویس.

— در شکل های چند ضلعی به تعداد ضلع ها داریم.

— ۷ دسته ی ده تایی منهای ۳ دسته ی ده تایی می شود

— کوچکترین عدد سه رقمی می باشد.

— ۱ سانتی متر همان میلی متر است.

— ۴۵ میلی متر برابر است با سانتی متر و میلی متر.

— در دایره تعداد ضلع ها و تعداد گوشه ها می باشد.

۳- با سه کارت ۲ و ۱ و ۷ چند عدد سه رقمی می توان نوشت؟ عددها را نوشته و دور عددهای فرد

خط بسته بکشید.

۴- علامت < = > بگذار.

$$۲۲ \square ۱۰+۱+۱+۳+۲$$

$$۲۵۶ \square ۲۶۵$$

$$۳۷ \square ۳۶+۱$$

$$\underline{+۴۸}$$

۵- در شمارش ده تا ده تا هر عدد بین چه اعدادی قرار می گیرد و به کدام عدد نزدیک تر است؟

— ۶۱ بین و و به نزدیک تر است.

— ۹۸ بین و و به نزدیک تر است.

۶- جمع و تفریق های زیر را انجام دهی

به روش فرآیندی

به روش فرآیندی

به روش انتقالی

به روش انتقالی

$$۲۵۱$$

$$۸۷۸$$

$$۴۷۱$$

$$۷۱۵$$

$$\underline{+۴۳۸}$$

$$\underline{-۳۲۴}$$

$$\underline{+۳۹۹}$$

$$\underline{-۲۹۸}$$

۷- عددی را پیدا کنید که اگر با ۴۶ جمع کنیم جواب ۷۸ می شود. (از هر روشی که دوست دارید پاسخ دهید.)

$$\square + ۴۶ = ۷۸$$

۸- ملیکا ۲۵۰ صفحه از یک کتاب را خوانده است . اگر کتاب ۴۳۰ صفحه داشته باشد. چند صفحه از کتاب باقی مانده است؟

۹- سپیده ۶ سال داشت که برادرش به دنیا آمد. حالا از آن زمان ۵ سال می گذرد. این خواهر و برادر

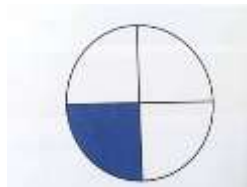
روی هم چند سال دارند؟

الف) برادر سپیده چندسال دارد؟


ب) سپیده چند سال دارد؟

ج) این دونفر چندسال دارند؟

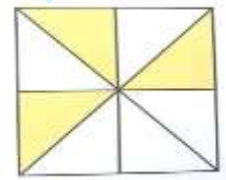
۱۰- جمله ها را با نوشتن عدد مناسب کامل کنید و نشان دهید چه بخشی از شکل رنگ شده است.



..... قسمت از قسمت



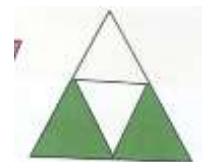
..... قسمت از قسمت



..... قسمت از قسمت



..... قسمت از قسمت



..... قسمت از قسمت

۱۱- در یک دبستان تعداد دانش آموزان کلاس اول تا ششم به صورت زیر است:

کلاس	اول	دوم	سوم	چهارم	پنجم	ششم
تعداد دانش آموزان	۷۳	۵۶	۴۸	۳۳	۶۱	۴۴
تعداد تقریبی						

ابتدا تعداد تقریبی دانش آموزان را در جدول بنویسید و سپس هر ۱۰ دانش آموز را با 😊 نشان دهید و نمودار زیر را کامل کنید.

