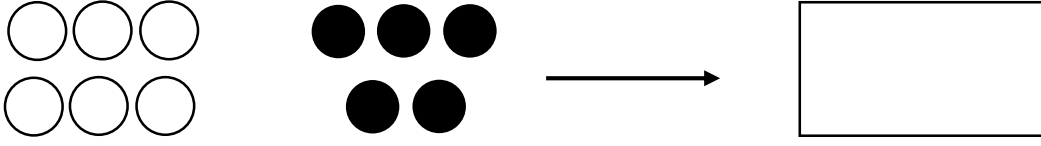
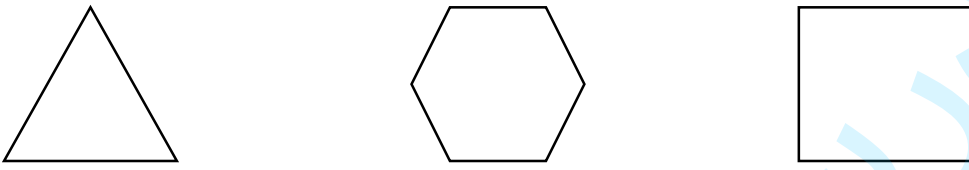
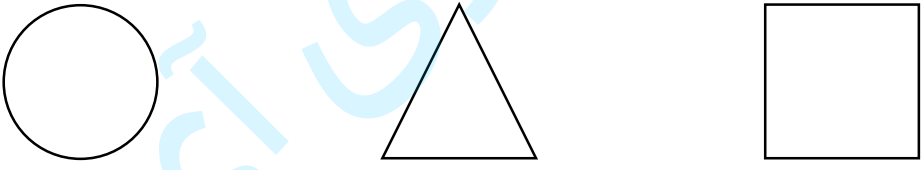





ردیف	سوالات						
۱	<p>شکل‌های هر دو دسته روی هم چندتا می‌شود با چوب خط نشان بده.</p> 						
۲	<p>لبه‌ها را با قرمز و گوشه‌ها را با آبی رنگ بزن.</p> 						
۳	<p>بین هر دو عدد علامت مناسب < = > بگذار.</p> <p>۷۰ ○ ۴۲ ۲۵ ○ ۴۶ ۵ + ۴ ○ ۱۰ - ۱</p>						
۴	<p>در جای خالی عدد مناسب بنویس.</p> <p>۲۰ + ۱۰ + ۴ =</p> <p>۵ + ۳۰ + ۵ =</p>						
۵	<p>نام هر شکل را بنویس.</p>  <p>.....</p>						
۶	<p>دسته‌های ده‌تایی بساز و جدول را با توجه به آن کامل کن و در جای خالی عدد مناسب بنویس.</p>  <table border="1" style="margin-left: auto; margin-right: auto;"> <tr> <td>یکی</td> <td>ده‌تایی</td> </tr> <tr> <td style="border: none;"> </td> <td style="border: none;"> </td> </tr> <tr> <td style="border: none;"> </td> <td style="border: none;"> </td> </tr> </table> <p>با عدد:</p> <p>با حروف:</p>	یکی	ده‌تایی				
یکی	ده‌تایی						
۷	<p>از عدد ۴۵ تا ۵۵ بنویس.</p> <p>..... - ۵۴ - - - - ۴۹ - - - - ۴۵</p>						

جدول را کامل کن.

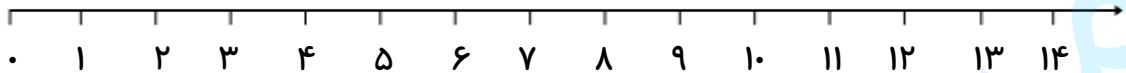
۱۳	۳۵
.....	هشتاد

۸


جمع روبه‌رو را روی محور نشان بده و جواب آن را بنویس.

$$۶ + ۴ = \dots\dots\dots$$

۹



تفریق روبه‌رو را به کمک شکل کامل کن.



۱۰

$$\dots\dots\dots - \dots\dots\dots = \dots\dots\dots$$

زمانی را که ساعت مقابل نشان می‌دهد روی نقطه چین زیر بنویس.



.....

۱۱

الگوی عددی زیر را با دقت ادامه بده.

$$۰ - ۵ - \dots\dots\dots - \dots\dots\dots - \dots\dots\dots - \dots\dots\dots$$

۱۲

علی ۱۲ مداد آبی و ۵ مداد قرمز دارد. او روی هم چند مداد دارد؟ (با شکل یا چوب خط نشان بده.)

۱۳

دانش آموز:

خ خ ق ق ن ت

جمع و تفریق را به خوبی انجام می‌دهد.

اعداد را می‌شناسد و قادر به شمارش است.

مسئله را به خوبی درک و آن را حل می‌کند.

نظر والدین:

نظر معلم:

با آرزوی موفقیت برای شما

تعداد سوالات: ۱۳