

به نام خدا

نام و نام خانوادگی:..... ارزشیابی ریاضی کلاس اول دبستان

۱- سمت راست درخت یک خانه بکش که از درخت کوتاه تر باشد.



۲- دومین گل از سمت چپ را رنگ کن.



۳- برای شکل دو جمع بنویس.



$$\dots + \dots = \dots$$

$$\dots + \dots = \dots$$

۴- در جای خالی عدد مناسب بنویس.

$$9 - \dots = 7$$

$$\dots + 2 = 4$$

$$\dots - 1 = 8$$

$$6 + 2 = \dots$$

۵- در جای خالی عدد مناسب بنویس.

..... ده تایی و..... یکی می شود ۲۳

۱۷ می شود یکی و ده تایی

یک دسته ی چهار تایی برابر است با یکی.

۸۰ برابر است با ده تایی

۶- آرزو در گلدان ۵ گل قرمز و ۳ گل سفید گذاشت.

آرزو در گلدان چند گل گذاشته است؟.....



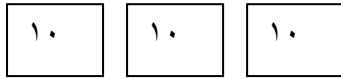
۷- اعداد قبل و بعد را بنویس.

..... - - ۲۴ - -


..... - - ۷۱ - -



۸- دور دسته بیش تر خط بکش و دو طرف علامت عدد مناسب بنویس.



..... <



۹- برای شکل دو جمع مناسب بنویس.

..... + =

..... + =

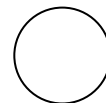
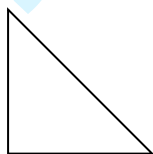


۱۰- ۹ شمع روی یک تولد آزاد بود. ۶ تای آن ها را خاموش کرد. چند شمع روشن مانده


است؟.....



۱۱- مربع را آبی و مثلث را سبز و دایره را در خط بسته بگذار.



۱۲- پدر فرزانه یک مداد ۷ ریالی خرید. مقدار پولی را که او به فروشنده داده است در خط بسته بگذار.



۱۳- جاهای خالی را به طور مناسب پر کن.

	۷۸		۱۸
شصت و سه		پنجاه و دو	



۱۴- برای عدد ۴۵ جدول و شکل بکش و با حروف بنویس.

با حروف



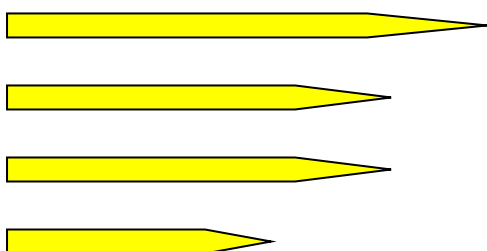
۱۵- جمله ها را با سبک تر و سنگین تر کامل کن.

ماشین از هواپیما است.

گل از گلدان است.



۱۶- جمله ها را با بلند ترین و کوتاه ترین کامل کن.



مداد آزاده مدادها است.

مداد فرزانه مدادها است.

مداد مریم

مداد منیژه