




تلاش کردیم شما ملا خوشحال مرکز

آزمون تشخیصی ریاضی اول دبستان




نام و نام خانوادگی :




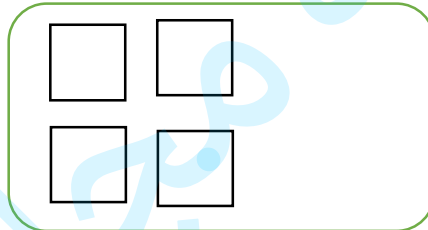

۱- با رنگ زدن یک الگوی منظم و مشخص درست کن.




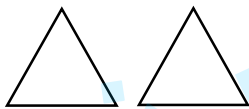
۲- به تعداد شکل های سمت چپ از شکل های سمت راست رنگ کن.




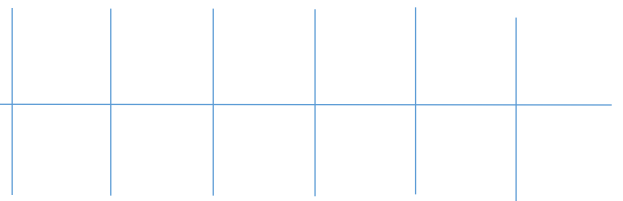
۳- دو تا شکل به هر دسته اضافه کن.



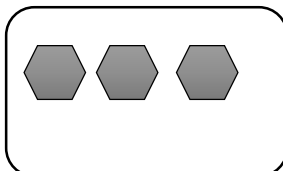
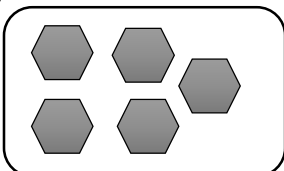
۴- مانند نمونه با شابلون از چپ به راست شکل بکش.




۵- الگو را ادامه بده.



۶- شکل های هر دودسته روی هم چند تا می شود. با چوب خط نشان بده.




۷- جدول های شگفت انگیز را کامل کن.




۳	۱	۲		۹	۵	۴	۷	۶
۵	۶	۹	۱		۷	۳	۸	۲
۴	۸	۷	۲	۶		۵	۱	۹
۹	۵	۱	۷	۳	۶		۴	۸
۷	۲	۸	۵	۱	۴	۶		۳
۶	۳	۴	۹	۸	۲	۱	۵	
	۴	۵	۶	۷	۹	۸	۳	۱
۱		۶	۳	۵	۸	۹	۲	۴
۸	۹		۴	۲	۱	۷	۶	۵

۲	۵	۱		۳	۴
۳	۴		۲	۵	۱
۱	۲	۵		۶	۳
۴	۶		۵	۱	۲
۵	۱	۴		۲	۶
۶	۳		۱	۴	۵



۸- از علامت مناسب استفاده کن . کمتر ، بیشتر یا مساوی . $>$ $<$ $=$


<input type="text"/>	<input type="text"/>	<input type="text"/>	<input type="text"/>
<input type="text"/>	<input type="text"/>	<input type="text"/>	<input type="text"/>



۹- از ۰ تا ۸ را در داخل خانه ها از چپ به راست بنویس .

۰	۱							
---	---	--	--	--	--	--	--	--

۱۰- چند تا بودند . چند تا رفتند . چند تا ماندند؟ (جاهای خالی را کامل کن.)



<input type="text"/>	<input type="text"/>	<input type="text"/>		
<input type="text"/>	$-$	<input type="text"/>	$=$	<input type="text"/>