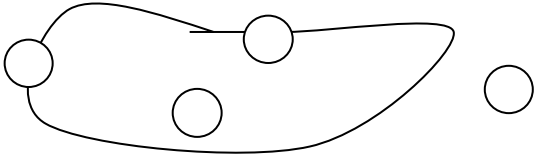


نام و نام خانوادگی :

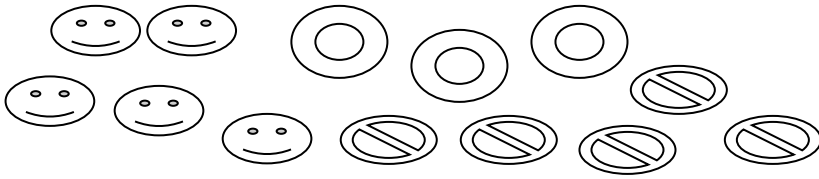
۱- خرگوش سمت راست را رنگ بزن .



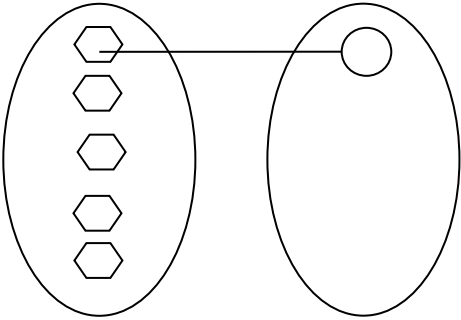
۲- گردی های روی خط بسته را رنگ بزن



۳- شکل های مثل هم را داخل خط بسته بگذار



۴- شکل زیر را کامل کن



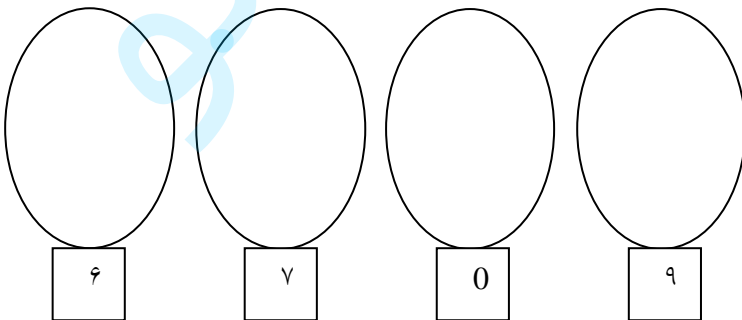
۵- خط های راست را رنگ بزن.



۶- روی شکلی که مثل بقیه نیست خط بزن



۷- به اندازه عدد داده شده شکل بکش



۸- در جای خالی علامت < = > بگذار.

۴ ۶

۹ ۸

۸ ۷

۷ ۷

۹- عدد های قبل و بعد عدد نوشته شده را بنویس.

		۷		
--	--	---	--	--

$۳ + ۴ = \dots\dots$

۷

۵

۱۰- جمع کنید.

$۲ + ۶ = \dots\dots$

$$\begin{array}{r} ۷ \\ + ۲ \\ \hline \end{array}$$

$$\begin{array}{r} ۵ \\ + ۴ \\ \hline \end{array}$$

۱۱- جاهای خالی را با حروف یا رقم بنویس.

	چهارده		سیزده
۱۹		۱۷	

$۸ - ۵ = \dots\dots$

۹

۷


۱۲- تفریق کنید.

$۸ - ۷ = \dots\dots$

$$\begin{array}{r} ۹ \\ - ۶ \\ \hline \end{array}$$

$$\begin{array}{r} ۷ \\ - ۴ \\ \hline \end{array}$$

۱۳- با توجه به شکل جدول را کامل کن و در جای خالی عدد مناسب بنویس.



ده تایی	یکی
---------	-----

..... ده تایی و تا یکی

۱۴- کامل کن .

۱۸ می شود ده تایی و یکی

۱۲ می شود ده تایی و یکی

۱ ده تایی و ۴ یکی می شود

۱ ده تایی و ۳ یکی می شود

ارزیابی معلم: