

به نام خدای دوست داشتنی

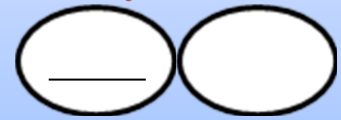
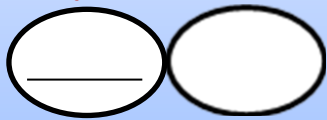


ارزشیابی ریاضی نوبت اول

نام دانشمند کوچکم :

نازنینم سمت چپ ستاره یک تکه ابر بکش.



ریاضیدان من عدد هر دسته را با عدد وچوب فط نشان بره.



کودک فوبم بین این اعداد علامت مناسب < = > بگذار.

۲ ۷

۸ ۸

۵ ۳


۶ ۹

دبندم برای این شکل جمع مناسب بنویس.

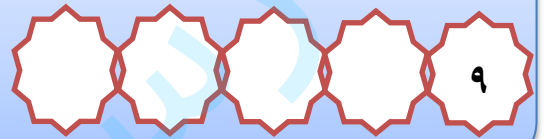
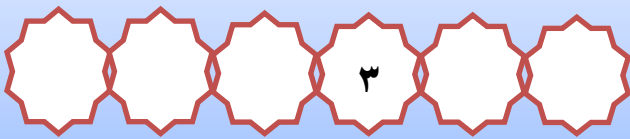


_____ + _____ = _____

گل من نیمه ی پایین را مثل نیمه ی بالا رنگ بزن.



عزیزم ۳ قبل و بعد این اعداد را بنویس.



نازنین برای هر عدد از یک رنگ استفاده کن و جواب جمع را پیدا کن.



$$3 + 4 + 2 =$$

مهربانم جدول شگفت انگیز را با اعداد مناسب کامل کن.



۴	۱	۵	۲	۶	۷	۹	۸	۳
۲	۹	۶	۵	۸	۳	۷	۴	۱
۷	۳			۹	۴		۵	۶
۱	۲			۴	۶	۵	۳	۷
۵	۸	۳	۷	۲	۹	۱	۶	۴
۶	۷	۴	۳	۱			۹	۲
۸	۵	۷	۴	۳			۲	۹
۳	۶	۱	۹	۵	۲	۴	۷	۸
۹	۴	۲	۶	۷	۸	۳	۱	۵